

011-06

ВСЕРОССИЙСКАЯ ОЛИМПИАДА ШКОЛЬНИКОВ
ОБЩЕСТВОЗНАНИЕ. 2024–2025 уч. г.
ШКОЛЬНЫЙ ЭТАП. 11 КЛАСС
Задания

Продолжительность – 2 академических часа (90 минут)
Максимальный балл за всю работу – 100.

ПЕРВЫЙ ТУР

Задание 1. Установите истинность или ложность суждений.

Обозначьте «да» истинные суждения, «нет» – ложные. Ответы внесите в таблицу.

- 1.1. В современном мире более не существует абсолютных монархий.
- 1.2. Единственным источником власти в РФ является ее многонациональный народ.
- 1.3. Основным компонентом любой социальной роли является социальная санкция, следующая в случае её невыполнения.
- 1.4. Человек может играть несколько социальных ролей одновременно.
- 1.5. Товарами Гиффена называются товары, спрос на которые растёт даже при повышении цены на них.
- 1.6. От непредвиденного увеличения инфляции страдают заемщики капитала.
- 1.7. Вертикальная мобильность может осуществляться вопреки желанию человека.
- 1.8. Деятельность движения суфражисток является примером проявления гражданского общества.
- 1.9. В соответствии с прагматической концепцией истины, истина представляет собой результат соглашения между учеными.
- 1.10. В рыночной экономике невозможна ситуация, когда какой-либо товар продается по цене, меньшей, чем издержки его производства.

Ответ:

1.1	1.2	1.3	1.4	1.5	1.6	1.7	1.8	1.9	1.10
нет	да	нет	да	нет	нет	нет	да	нет	нет

По 1 баллу за каждый верный ответ. Максимум за задание – 10 баллов.

Задание 2. Из приведенного перечня выделите полномочия, НЕ относящиеся к ведению Государственной Думы Федерального собрания РФ:

- А) осуществление помилования;
- Б) решение вопроса о доверии Правительству РФ;
- В) назначение выборов Президента РФ;
- Г) принятие федеральных законов;
- Д) утверждение указа Президента РФ о введении чрезвычайного положения;
- Е) назначение на должность и освобождение от должности Председателя Центрального банка РФ;
- Ж) утверждение изменения границ между субъектами РФ;
- З) назначение на должность и освобождение от должности Председателя Счетной палаты и половины от общего числа аудиторов Счетной палаты по представлению Президента Российской Федерации;
- И) утверждение по представлению президента Российской Федерации кандидатуры Председателя правительства Российской Федерации;
- К) назначение на должность и освобождение от должности Уполномоченного по правам человека.

Ответ:

А, Б, Д, Ж, З

По 1 баллу за каждый верный ответ. Максимум за задание – 5 баллов.

Задание 3. Замените выделенный курсивом фрагмент фразы соответствующим ему обществоведческим термином.

- А) В современной экономике особое значение приобретает деятельность *небольших предприятий, специализирующихся на создании и внедрении в производство новейших образцов техники и технологий, сопряженная с серьезным экономическим риском.*
- Б) Принято считать, что начало научному исследованию *процесса возникновения и развития человека как социального существа* было положено в XIX веке.
- В) Наличие развитой системы *целостного представления о мире и месте в нем человека, а также обусловленных этими представлениями убеждений, идеалов и ценностей* свидетельствует о зрелости личности.

Ответ:

А) инновация

Б) эволюция

По 1 баллу за каждое правильно записанное слово. Максимальная оценка - 3 балла.

Задание 4. Решите логическую задачу.

Во время урока учитель Аркадий Петрович раздал школьникам самостоятельные работы. Один из школьников, Иван, оказался озадачен выставленной оценкой. Он обратился к учителю, чтобы оспорить поставленную ему оценку, на что тот резонно заметил, что во фрагменте расуждений, представленных учеником в его работе, пропущено заключение, которое теперь Ивану нужно восстановить. Вот этот фрагмент:

Каждый математик быстро и точно читает. Некоторые образованные люди не могут быстро и точно читать.

«Помните, что в любом вашем суждении имеются части – логическое подлежащее и логическое сказуемое (подлежащее (субъект) – это то, о чём идёт речь в суждении; логическое сказуемое (предикат) – это то, что говорится о логическом подлежащем», – сказал учитель. «А ещё связь между логическим подлежащим и логическим сказуемым заключением обосновывается в посылках», – подхватил Иван. «И, как мне думается, вы хотели сделать какой-то вывод относительно образованных людей», – предположил Аркадий Петрович. «Да, именно так», – подтвердил ученик.

Какое заключение пропустил Иван в своём расуждении? Ответ обоснуйте.

Ответ: Иван пропустил то, что некоторые образованные люди не читают быстро и точно.

математикам.

Обоснования:

1. Согласно последнему способу чтения, Нормальный Text подлежащим в предложении является Иван. Связью между термином "быстро и точно читает" и "люди" является связь между подлежащим и сказуемым.

2. В суждении "Некоторые образованные люди не могут быстро и точно читать" подлежащим, что некоторые образованные люди не могут быстро и точно читать, это является подлежащим.

B)

микрозрение

Можно не отвечать и просто считать.

Максимум за задание – 8 баллов.

Задание 5. Каждый человек живущий в большом городе должен знать Правила дорожного движения. Выберите (перечеркните крестом) юридически верное завершение утверждения:





Утверждение	Возможные варианты завершения
Установленный факт употребления алкоголя водителем миллиграмма на миллиграмм на один литр, выдыхаемых веществ определяется наличием в его организме абсолютного этилового спирта в концентрации, превышающей:	0,10 миллиграмма на один литр выдыхаемого воздуха <input checked="" type="checkbox"/>
Владелец транспортного средства обязан возместить вред, причиненный этим транспортным средством, если не докажет, что вред возник:	исключительно вследствие непреодолимой силы <input checked="" type="checkbox"/>
Административная ответственность установлена за нарушение Правил дорожного движения или правил эксплуатации транспортного средства, повлекшее причинение:	легкого вреда здоровью средней тяжести либо человека <input checked="" type="checkbox"/>
Уголовная ответственность предусмотрена за управление транспортным средством, не повлекшее причинение тяжкого вреда здоровью или смерть человека, лицом, находящимся в состоянии опьянения, оно ранее было подвергнуто административному наказанию:	за невыполнение законного требования в отношении лица о прохождении медицинского освидетельствования на состояние опьянения <input checked="" type="checkbox"/>

Handwritten red marks and scribbles on the right side of the page, including a large 'X' and some illegible text.


Максимальная оценка за задание – 4 балла, верный ответ без решения оценивается в 2 балла.

Задание 7. Соотнесите названия международных организаций и их эмблемы.

1. Всемирная организация интеллектуальной собственности
2. Шанхайская организация сотрудничества
3. Организация стран - экспортёров нефти
4. Международное агентство по атомной энергии
5. Всемирная организация здравоохранения
6. Всемирная метеорологическая организация
7. Совет государств Балтийского моря
8. Организация Договора о коллективной безопасности
9. Организация по безопасности и сотрудничеству в Европе
10. Содружество Независимых Государств

А. 	Б. 
В. 	Г. 


Д.




Е.



Ж.




З.



И.



К.



Ответ:

1	2 ✓	3	4 ✓	5 ✓	6 ✓	7	8	9	10
Ж	Б	К	Г	З	Е	А	В	Д	Х

По 1 баллу за каждый верный ответ. Максимум за задание – 10 баллов.

50

Задание 8. Вставьте пропущенное слово

А. Философское учение, утверждающее опыт в качестве приоритетного способа получения знаний - ...

Б. Отношения между усыновителем и усыновлённым, бабушкой и внуками регулируются нормами ... права.

В. Нормы ... состоят из гипотезы, диспозиции и санкции и подразделяются на императивные и диспозитивные.

Г. Форма социальной общности, когда люди, её составляющие, проживают вне страны происхождения, но сохраняют идентичность со своей Родиной, образуют сплочённые и устойчивые этнические группы, называется ...

Д. Социальная роль представляет собой динамическую характеристику ..., особенности исполнения предписываемых ... действий конкретным человеком.

Е. Наиболее часто встречающийся в конкретном обществе тип личности обозначается термином ... личность.

Ж. Сознание является непосредственным продолжением и наиболее сложной формой проявления такого всеобщего свойства материи как ...


З. «... мира» - это сложившаяся на конкретном этапе развития человечества совокупность представлений о структуре окружающей человека действительности, способах её функционирования и развития.

И. Карл Маркс считал, что ... стоимость – стоимость, создаваемая неоплаченным трудом рабочего сверх стоимости его рабочей силы и безвозмездно присваиваемая капиталистом.

К. Смещение кривой производственных возможностей ... наблюдается в период экономических кризисов, спадов производства, структурных кризисов.

Ответ:

- А. _____
- Б. семейно ✓
- В. права ✓
- Г. _____
- Д. статус ✓
- Е. _____
- Ж. _____
- З. сауртина ✓
- И. _____
- К. влево ✓



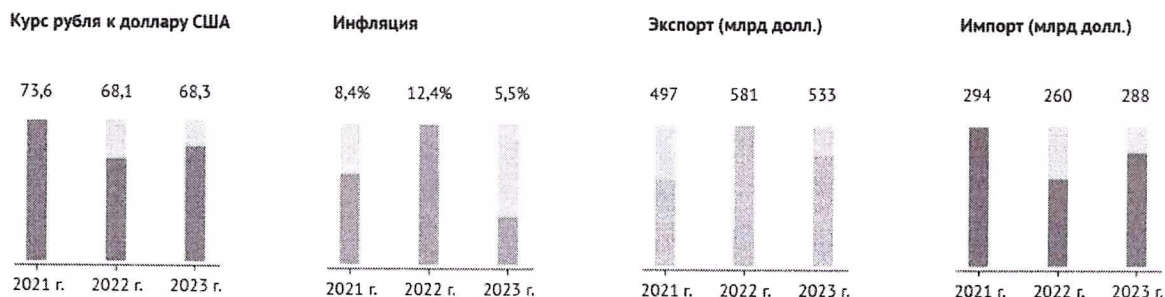
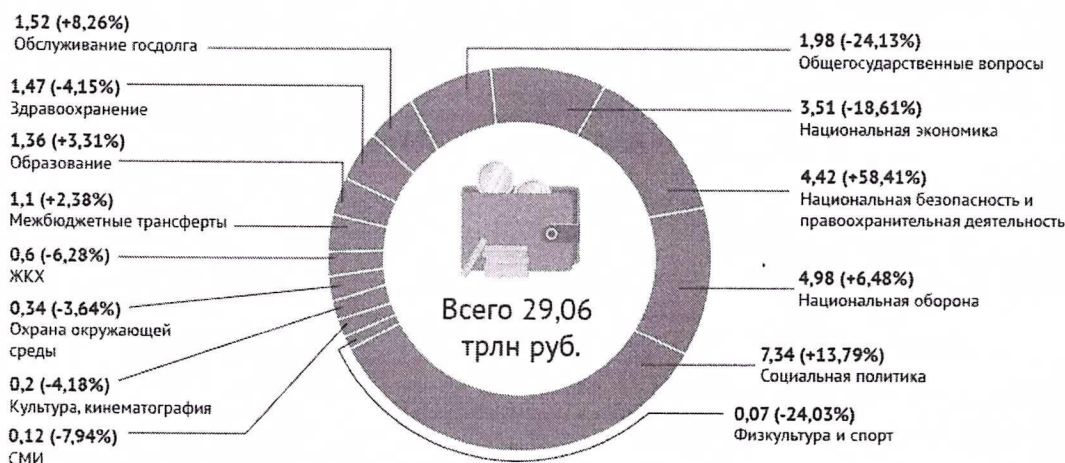
По 1 баллу за верный ответ, всего 10 баллов.

Задание 9. Проанализируйте данные инфорграфики, предоставленные крупнейшей еженедельной общественно-политической газетой России. На их основе оцените верность представленных в таблице утверждений. Свой ответ кратко обоснуйте.

Проект федерального бюджета-2023 в цифрах



Какие будут расходы в 2023 г. (трлн руб., % по сравнению с 2022 г.)



Источник: Проект бюджета на 2023 год и плановый период 2024 и 2025 годов

[/t.me/aifonline](https://t.me/aifonline)
[/aif_ru](https://vk.com/aif_ru)
[/vb.me/aif](https://vimeo.com/aif)
[/aifru](https://www.youtube.com/aifru)

Утверждение	Верно или нет	Обоснование
<p>ФБГУ «Российская газета» опубликовавшая данную инфографику для продвижения информации так же использует социальные</p>		

сети, мессенджеры и интернет.		
По сравнению с 2021 годом в 2022 году импорт сократился на 34 млрд. руб.	не верно	Информация представлена в \$, а не в руб.
Расходы государственного бюджета на правоохранительную деятельность в 2023 менялись существенно.		

1 балл за верный ответ, 1 балл за верное обоснование.
Всего 6 баллов.

Задание 10. Распределите указанные расходы по двум группам, озаглавьте каждую из них.

- А) затраты на техническое обслуживание машин и оборудования;
- Б) расходы на транспортировку товаров;
- В) оплата труда производственных рабочих;
- Г) оплата труда управляющего персонала предприятия;
- Д) оплата электроэнергии, используемой для приведения в действие производственного оборудования;
- Е) арендная плата за пользование зданиями;
- Ж) расходы на приобретение сырья;
- З) расходы на обеспечение охраны предприятия;
- И) оплата услуг телефонной и Интернет-связи.

Ответ:

Постоянные издержки	Переменные издержки
А В В Д Г ✓	А З И Ж ✓

2 балла за указание верного названия групп, 4 балла – при отсутствии ошибок в распределении. 3 балла - при ошибке в распределении одного элемента. 2 балл – при ошибке в распределении 2-3 элементов. 1 балл – при ошибке в распределении 4-5 элементов.

Максимальная оценка за задание – 6 баллов.

ВТОРОЙ ТУР

Задание 11. Прочитайте выдержки из статьи опубликованной на официальном сайте Московской городской организации КПРФ и ответьте на вопросы.

Ровно 100 лет назад в книге «_____», как высшая стадия капитализма», которую изучали в Советском Союзе во всех вузах, В.И. Ленин выявил пять основных экономических признаков _____ как «высшей» и «последней» стадии капитализма. Это:

- 1) Концентрация производства и капитала, дошедшая до такой высокой степени развития, что она создала монополии, играющие решающую роль в хозяйственной жизни.
- 2) Слияние банковского капитала с промышленным и создание на базе этого «финансового капитала» финансовой олигархии.
- 3) Более важное значение вывоза капитала по сравнению с вывозом товаров.
- 4) Образование международных монополистических союзов капиталистов, осуществляющих передел мира.
- 5) Конец территориального раздела земли крупнейшими капиталистическими державами. <...>

Сегодня изменился каждый из пяти экономических признаков _____. Но приглядимся повнимательнее к четвертому, наиболее актуальному сегодня признаку — как выясняется, самому небезопасному для мира. Этому признаку посвящена пятая глава книги, которая называется «Раздел мира между союзами капиталистов». Глава начинается следующими словами: «Монополистические союзы капиталистов, картели, синдикаты, тресты, делят между собою, прежде всего, внутренний рынок, захватывая производство данной страны в своё, более или менее полное, обладание. Но внутренний рынок, при капитализме, неизбежно связан с внешним. Капитализм давно создал всемирный рынок. И по мере того, как рос вывоз капитала и расширялись всячески заграничные и колониальные связи и «сферы влияния» крупнейших монополистических союзов, дело «естественно» подходило к всемирному соглашению между ними, к образованию международных картелей». <...>

Пожалуй, наиболее важный политический вывод, который содержится в анализе Лениным четвертого экономического признака _____, заключается в том, что международные картели представляют собой угрозу для мира, являются источниками войн. <...>

11.1 Какой термин пропущен в тексте:

Ответ: ~~интернационализм~~ ^{оо} материализм

Правильный ответ 2 балла.

11.2 На основе первого признака, выделенного В.И. Лениным, назовите пример современных международных монополий

75
20
Ответ: "Нестле", "Ройял-дач - Шел"

Правильный ответ 2 балла.

11.3 В тексте упомянуты такие монополистические союзы капиталистов как картели, синдикаты, тресты дайте определение каждого из них.

Картель: объединение предприятий, сох-
ранивающих финансовую и производ-
ственную самостоятельность, занимаю-
щееся ценообразованием, определением
объемов производства и разграничением
рынков сбыта.

Синдикат: объединение предприятий, сох-
ранивающих юридическую, финансовую и
производственную самостоятельность,
занимающее организацию центра-
лизованного сбыта продукции.

Трест: объединение предприятий, в кото-
рых происходит полное объединение
собственности с целью совместного произ-
водства и сбыта продукции.

Каждое правильное определение 2 балла. Всего 6 баллов.

11.4 Какая «более современная» форма монополистического союза не упомянута в тексте? Дайте её название и определение.

Ответ:

Правильно названная форма – 2 балл, правильное определение 2 балла. Всего 4 балла.

11.5 В тексте содержится утверждение о том, что международные картели представляют собой угрозу для мира, являются источниками войн. Согласны ли вы с этим утверждением? Свой ответ обоснуйте. Приведите два факта в подтверждение.

Обоснование: Да, я согласен с приведенным утверждением. Международные картели являются источниками войн, т.к. способны спровоцировать объявление войн за защиту ресурсов без с попомощью своего политического и экономического

Факт 1: Как пример Операция "Буря в пустыне" направленная против Ирака в ответ на вторжение последнего в Иерусалимскую оккупированную территорию израильтянами.

Факт 2: Санкционная война между КНР США в попытке защитить своих производителей в Европе за американские рынки сырья продукции.

Логически верное обоснование – 2 балла, корректно приведенный факт – 2 балла. Всего 6 баллов.

11.6 Спрогнозируйте дальнейшее развитие капитализма. Назовите две позитивных и две негативных черты возможного развития.

Позитивные черты.

1) Развитие стран третьего мира, стран Африки и Южной Америки за счет влияния капитала

2) Развитие технологий и оборудования для расширения производства

Негативные черты.

1) Истощение ресурсов за счет того что безответ кризис перед производством

и борьбу в том числе и вооруженно
мужо за оставшиеся рынки
сбыта.

2) Увеличение пол-ва экономиче-
ских "пузырей" на рынках за
счет чередования близилие ва-
питала в мичет не обеспечи-
ние приема и обмена.

За каждую уместную логически обоснованную черту – 2 балла.
Всего 8 баллов.

Максимальная оценка за задания Второго тура – 28 баллов.

20