

*Всероссийская олимпиада школьников  
по Основам безопасности и защиты Родины  
2024–2025 учебный год  
Школьный этап*

**Задания для участников 5–6 классов**  
**Общее время выполнения заданий – 45 минут.**  
**Максимальный балл за выполнение всех заданий – 100 баллов.**

**ШИФР** 08ж05-04

**Дорогие ребята!**

При выполнении заданий Вам предстоит выполнить определённую работу, которую лучше организовать следующим образом:

- внимательно прочитайте задание;
- если Вы отвечаете на теоретический вопрос или решаете ситуационную задачу, обдумайте и сформулируйте конкретный ответ (ответ должен быть кратким, его содержание требуется вписать в отведённое поле, писать следует чётко и разборчиво);
- при ответе на тесты определите верный ответ и обведите кружком, букву, соответствующую выбранному Вами ответу.

За каждый правильный ответ Вы можете получить определённое членами жюри количество баллов, не выше указанной максимальной оценки.

Сумма набранных баллов за все решённые вопросы – итог Вашей работы.

Задания считаются выполненными, если Вы вовремя сдали их членам жюри.

**Желаем удачи!**

**Определите один правильный ответ.**

**1. Какой вид транспорта представляет наибольшую опасность?**

- А) Автомобильный
- Б) Железнодорожный
- В) Воздушный
- Г) Водный

**2. Пешеход не успевший закончить переход проезжей части дороги до начала возобновления движения транспортных средств, должен:**

- А) вернуться назад
- Б) остановиться на осевой линии или островке безопасности, разделяющей транспортные потоки противоположных направлений
- В) закончить переход дороги
- Г) двигаться по осевой линии

**3. В салоне автобуса (трамвая, троллейбуса) вы обнаружили забытый (оставленный) кем-то сверток. Как вы поступите?**

- А) Развернете сверток, чтобы узнать, что там находится
- Б) Поставите в известность водителя
- В) Возьмете сверток с собой, чтобы отнести в полицию
- Г) Ни чего не говоря, покинете автобус

**4. Готовясь к походу, вам необходимо правильно подобрать одежду. Каким ниже перечисленным требованиям она должна соответствовать:**

- А) одежда должна быть свободной, чистой и сухой, носиться в несколько слоев
- Б) одежда должна быть из синтетических, материалов

- В) одежда должна быть однотонного или камуфлированного материала, чистой и сухой  
Г) одежда должна быть модной

**5. Если Вы заблудились в тайге, первым делом постарайтесь:**

- 26  
А) прекратить движение и попытаться восстановить ориентировку с помощью компаса или пользуясь различными природными признаками  
Б) найти убежище от холода, жары, дождя и ветра  
В) придумать способ оповестить о себе  
Г) рассчитать запасы пищи, воды и найти способы ее добычи

**6. Что включает в себя автономное существование?**

- А) Пребывание человека на значительном удалении от жилья  
Б) Потеря ориентировки на местности  
В) Отставание от группы в походе  
Г) Всё перечисленное

**7. Назовите международный сигнал бедствия:**

- 26  
А) SOS  
Б) DOS  
В) KOS  
Г) SOC

**8. Определите смысловое значение данного знака, на водных объектах:**



- А) «Купаться запрещено»  
Б) «Входить в воду запрещено»  
В) «Опасно! Грязная вода»  
Г) «Купаться запрещено без сопровождения взрослых»

**9. Подземные толчки и колебания земной поверхности, возникающие в результате внезапных смещений и разрывов в земной коре или верхней части мантии Земли и передающиеся на большие расстояния в виде упругих колебаний, являются**

- 26  
А) землетрясением  
Б) вулканическим землетрясением  
В) эпицентром землетрясения  
Г) обвалом

**10. Где безопаснее находиться во время землетрясения?**

- А) возле оконного проёма  
Б) в широком коридоре  
В) в узком коридоре  
Г) в дверном проёме

**11. Какой признак является общим для всех закрытых механических травм?**

- А) деформация  
Б) патологическая подвижность  
В) отёк  
Г) укорочение повреждённой части конечности

12. Пострадавший поранил руку. Кровь из раны вытекает равномерно, не пульсирует, тёмно-красного цвета. Какой вид кровотечения?

- А) венозное
- Б) артериальное
- В) капиллярное
- Г) паренхиматозное

13. Выберите единый номер системы обеспечения вызова экстренных оперативных служб субъекта Российской Федерации.

- А) 101
- Б) 911
- В) 112
- Г) 102

14. Опасными местами в любое время суток могут быть:

- А) подворотни, заброшенные дома, задние двory, пустыри, пустующие стройплощадки
- Б) парикмахерские, магазины, банки, кафе
- В) отделение полиции, пожарная часть, почта

15. Безопасно ли тушить электрические приборы, находящиеся под напряжением?

- А) да, всегда
- Б) да, если напряжение ниже 220 V
- В) нет
- Г) да, если напряжение ниже 230 V

16. Что запрещено тушить пенным огнетушителем?

- А) Бензин, дизельное топливо
- Б) Лаки и краски
- В) Электропроводку
- Г) Торф

Определите несколько правильных ответов.

17. Какие из перечисленных требований безопасности позволят уберечься от клещевого энцефалита в лесу?

- А) залезать в норы и дупла руками, одетыми в перчатки
- Б) заправлять длинные брюки в голенище сапог (в обувь)
- В) регулярно проводить само- и взаимоосмотры
- Г) избегать мест, где много опавших плодов
- Д) одевать головной убор
- Е) остерегаться густой травы и низкорослого кустарника

18. Какие из перечисленных требований пожарной безопасности следует соблюдать при выборе места для разведения костра?

- А) место разведения костра должно быть хорошо проветриваемым
- Б) место разведения костра должно быть ровным
- В) место разведения костра должно находиться не далее чем в 10 метрах от водоёма
- Г) место разведения костра должно быть очищено от травы, листьев и т. п.
- Д) место разведения костра должно быть обложено поленьями
- Е) место разведения костра должно быть окопано.

19. Какие из перечисленных косвенных признаков указывают на то, что растение съедобно для человека?

- 15
- А) кора растения обглодана животными
  - Б) растение имеет плоды с яркой окраской
  - В) растение имеет небольшую высоту
  - Г) плоды растения поклёваны птицами
  - Д) растение имеет засохшее основание
  - Е) у основания растения множество косточек
  - Ж) плоды растения обнаружены в гнёздах
  - З) растение имеет приятный запах

20. Укажите направления, угол между которыми является азимутом.

- 1
- А) на юг
  - Б) на ориентир
  - В) на север
  - Г) на запад
  - Д) на световой ориентир

21. Какие действия необходимо выполнить для оказания первой помощи при носовом кровотечении?

- 15
- А) наклонить голову вперёд
  - Б) запрокинуть голову назад
  - В) повернуть голову набок
  - Г) приложить холод к переносице
  - Д) приложить тепло к переносице

22. Укажите правильные действия при захвате в заложники:

- 10
- А) Не отвечать на вопросы террористов.
  - Б) На все действия спрашивать разрешения.
  - В) Незаметно занять другое, более удобное место.
  - Г) Выполнять все требования преступников.
  - Д) Не смотреть в глаза террористам.
  - Е) Терпеть оскорбления и унижения.


23. Каковы признаки отравления ядовитыми растениями, ягодами, грибами?





- 10
- А) Бледность, одышка.
  - Б) Боль в животе.
  - В) Частый жидкий стул.
  - Г) Потливость, стеснение в груди.
  - Д) Тошнота, рвота.

#### Теоретические задания.




Задание 1. Укажите стрелками соответствие между изображением дорожного знака и его названием

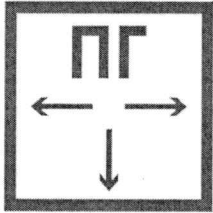

Максимальное количество баллов – 10 баллов.

	<p>начало велосипедной дорожки</p>	<p>Запрещение движения на велосипеде</p>
---	------------------------------------	--

	<i>запрещено движение на велосипеде</i>	Конец велосипедной дорожки
		Начало велосипедной дорожки
		Пересечение с велосипедной дорожкой или велопешеходной дорожкой
		Пешеходная дорожка <i>80</i>

**Задание 2.** Укажите стрелками соответствие между изображением знаком пожарной безопасности и его названием. **Максимальное количество баллов – 10 баллов.**

	<i>пожарный шланг звуковая труба</i>	Направление к эвакуационному выходу
		Пожарный кран
		Огнетушитель

		Пожарный гидрант
	направление к эвакуационному выходу	Звуковой оповещатель пожарной тревоги  10 б

### Задание 3.

Находясь в своей квартире, Вы обнаружили пожар на кухне (возгорание произошло от включенной электроплиты). Опишите безопасные действия в данных условиях.

Максимальное количество баллов – 20 баллов.

1. Если есть дым, мокрой тряпкой задержать рот и нос
  2. Выключить плиту +
  3. Открыть окно -
  4. Выйти из помещения +
  5. Вызвать пожарных +
- 15 б

### Задание 4.

Опишите правила поведения из четырех пунктов при обнаружении подозрительной вещи (предмета).

Максимальное количество баллов – 12 баллов.

1. рассказать ближайшему взрослому человеку -
  2. не трогать не в коем случае +
  3. вызвать полицию +
  4. не прикасаться +
- 6 б

Итого: 68 баллов