

825

8 класс

Инструкция по выполнению работ

Время на выполнение работы – 90 минут.

Максимальное количество баллов – 100.

Вам предлагается выполнить задания школьного этапа Олимпиады. Просим внимательно прочесть формулировку каждого задания, чтобы дать ответ на поставленные вопросы в той форме, которую предполагает каждое задание. Успехов Вам в выполнении работы!

Шифр U-46-8-2

Задание № 1. Выберите один правильный ответ. Впишите ответы в таблицу.

1.1. В каком году произошли описанные события?

«Поляки понесли такую значительную потерю, писал польский историк XVII в. Кобержицкий, что ее ничем нельзя было вознаградить. Колесо фортуны повернулось, и надежда овладеть целым Московским государством рушилась невозвратно...Остатки польского гарнизона в кремле, доведенные до отчаяния голодом, капитулировали. Освобождение российской столицы от интервентов создало условия для восстановления в стране государственной власти».

- А) 1611 г. Б) 1612 г. В) 1610 г. Г) 1558 г.

1.2. Определите по нижеприведенному отрывку, о каком историческом событии идет речь?

«..с возгласом «Братья мои и друзья, дерзайте!» выехал воевода Боброк. Русские воины выехали из дубравы, как выдержанные соколы. ударяют в стаи гусиные, высоко подняты знамена грозным воеводою. Были же воины свирепы, как львы, напавшие на овечьи стада. Яростный удар Засадного полка во фланг и тыл нападавшим переломил ход битвы».

- А) Невская битва Б) Битва на р. Сити В) Куликовская битва Г) Ледовое побоище.

1.3. Назовите фамилию государственного, военного и политического деятеля, одного из самых приближенных опричников Иоанна Грозного?

- А) Скуратов Б) Шуйский В) Адашев Г) Шереметев

1.4. В каком году Астраханское ханство было окончательно присоединено к России?

- А) 1547 г. Б) 1552г. В) 1556 г. Г) 1549 г.

1.5. При каком князе во Владимире было начато строительство Успенского собора?

- А) при Юрии Долгоруком В) при Всеволоде Большое Гнездо
Б) при Андрее Боголюбском Г) при Святославе Ярославиче

Ответ:

1.1.	1.2.	1.3.	1.4.	1.5.
Б +	В -	А -	В +	Б +

105

Критерии оценивания: за каждый верный ответ - 2 балла, всего – 10 баллов.

Задание № 2. Какое из перечисленных понятий (имён, дат, событий) является лишним в данном ряду? Лишнее слово или словосочетание зачеркните. Укажите, по какому принципу образован каждый ряд, то есть кратко поясните, что объединяет события (понятия, имена, даты).

А) зипун, терлик, ферязь, парча

Ответ: материя для одежды

Б) 1648г., 1550г., 1650г., 1662г., 1667-1671г., 1649г.

Ответ: события прихода в Россию чужеземцев

В) Древляне, бужане, вятичи, дреговичи, поляки, кривичи

Ответ: племена славянского происхождения в Русь. Золотую оловянную монету

45

26-46-8-2

Г) А.Ф. Адашев, Сильвестр, М.И. Воротынский, А.М. Курбский, И.В. Шереметев, И.М. Висковатый, В. Шуйский

Ответ: Исторические даты XVI-XVII вв.

Критерии оценивания: за каждый верный ответ - 4 балла, всего - 16 баллов.

Задание № 3. Выберите три правильных ответа на каждый вопрос. Впишите ответы в таблицу.

3.1. К основным причинам крестовых походов относится:

- 1) распространение культуры Возрождения
- 2) стремлением освободить Святую землю
- 3) противоречия между католиками и протестантами
- 4) бедственным положением, сложившимся в Европе в результате экономического кризиса и демографической ситуации
- 5) распространение арабами своей веры
- 6) желанием распространить влияние католической Церкви на восток

3.2. Какие современные народы относятся к южным славянам?

- 1) чехи
- 2) поляки
- 3) словаки
- 4) черногорцы
- 5) хорваты
- 6) болгары

3.3. Какие из перечисленных племен относятся к древнегерманским племенам?

- 1) тевтоны
- 2) вятичи
- 3) вестготы
- 4) остготы
- 5) кривичи
- 6) древляне

Ответ:

3.1	3.2	3.3
2, 4, 6	3, 5, 6	1, 3, 4

Критерии оценивания: за каждый верный ответ - 1 балл, всего - 9 баллов.

Задание № 4. Выберите один правильный ответ. Впишите ответы в таблицу.

4.1. Что означает термин «остяк»?

- 1) натуральный побор, взимающийся с нерусских народов Поволжья, Приуралья и Сибири
- 2) устаревшее русское название народности ханты
- 3) прежнее название марийцев

4.2. В каком году был издан Наказ Федора Иоановича о строительстве города в Сургуте?

- 1) 1594 г.
- 2) 1593г.
- 3) 1589г.

4.3. В каком году начался стремительный поход казачьего отряда атамана Ермака Тимофеевича в Сибирь?

- 1) 1581г.
- 2) 1582г.
- 3) 1583г.

Ответ:

4.1.	4.2.	4.3.
2	1	1

Критерии оценивания: за каждый верный ответ - 1 балл, всего - 3 балла.

Задание № 5. Определите хронологический порядок событий. Занесите буквенные обозначения событий в хронологическом порядке в приведенную таблицу.

- 5.1. А) Начало правления Ивана III
- Б) Учреждение патриаршества
- В) Год начала в России семибоярщины
- Г) Начало введения заповедных лет
- Д) Отмена местничества
- Е) Венчание Ивана IV на царство

- 5.2. А) экспедиция В. Атласова на Камчатку
- Б) исследование В. Поярковым р. Амур, Сибири

- В) открытие С. Дежневым пролива
- Д) открытие Х. Колумбом Америки

- Г) поход Е. Хабарова по р. Амур
- Е) экспедиция М. Стадухина в Восточную Сибирь

- 5.3. А) Издание Уложения о службе
 В) заключение Плюсского перемирия
 Д) начало формирования Второго ополчения

- Б) начало проведения политики опричнины
- Г) учреждение в России патриаршества
- Е) битва при Молодях







Ответ:

	1	2	3	4	5	6
5.1	А	Е	ВГ	Б	В	Д
5.2	Д	Е	Б	В	В -	А
5.3	ВА	ВБ	Е	В	Д -	В -

155

Критерии оценивания: за каждый верный ответ - 1 балл, всего - 18 баллов.

Задание № 6. Внимательно рассмотрите изображения и выполните задания.

А		Б	
В		Г	
Д		Е	

И-46-8-2

6.1. Запишите названия населенных пунктов, гербы которых представлены на изображениях.

Ответ.

А	Б	В	Г	Д	Е
Молочи Берега 1	Сурац 1	Ханты-Мансийск	Ханты-Мансийск	Искра 1	Медвежье —

6.2. Выпишите букву, обозначающую герб населенного пункта, название которого изначально предполагалось как «Ягельный»

Ответ. Б

6.3. Выпишите букву, обозначающую герб населенного пункта, который ранее именовался как поселок Комсомольский.

Ответ. Д 1

6.4. Выпишите букву, обозначающую герб населенного пункта, название которого по мнению некоторых исследователей, с хантынского переводится как «улыбка».

Ответ. Х 1

Критерии оценивания: за каждый верный ответ - 1 балл, всего - 9 баллов.

Задание № 7. Если вы согласны с утверждением, напишите «да», если не согласны - «нет». Внесите свои ответы в таблицу.

7.1. Первым российским государем династии Романовых стал Михаил Федорович.

7.2. Две первые попытки Ивана IV (походы 1547-1548, и 1549-1550гг.) взять столицу Казанского ханства закончились неудачей.

7.3. Местничество это система распределения служебных должностей в России, независимо от знатности рода.

7.4. В 1612 г. между Россией и Швецией был заключен Столбовский мирный договор.

7.5. Учреждение патриаршества в России в 1598 году, закрепило независимость Русской православной церкви от Константинополя.

Ответ:

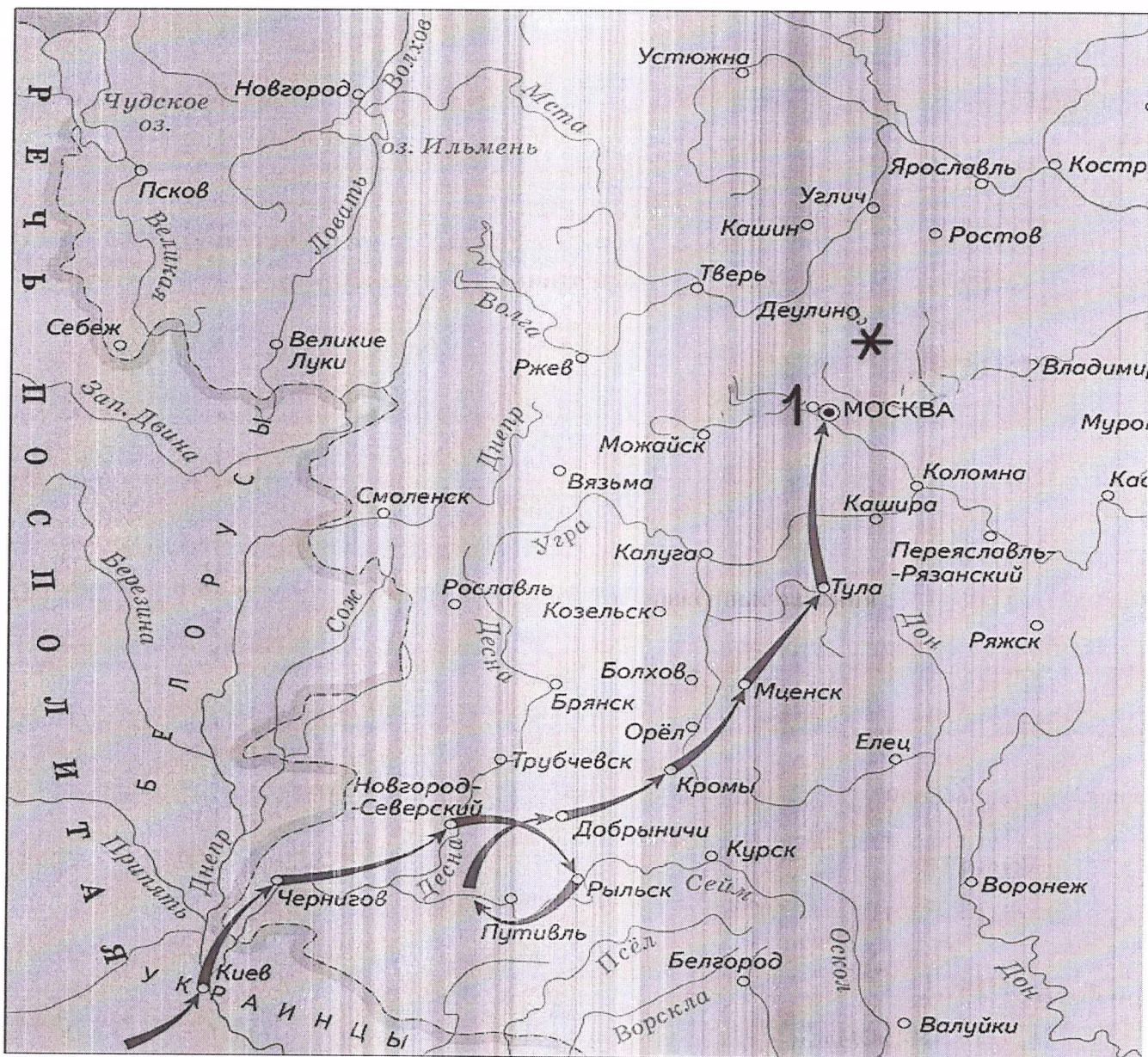
7.1.	7.2.	7.3.	7.4.	7.5.
Да 1	Да 1	Нет 1	нет 1	Да 1

Критерии оценивания: за каждый верный ответ - 1 балл, всего - 5 баллов.

60

50

Задание № 8. Рассмотрите карту и выполните предложенные задания



- 8.1. Новый самозванец объявился на юго-западе страны в период правления царя _____ (напишите имя и фамилию царя).
- 8.2. Под цифрой «1», обозначена резиденция самозванца, расположенная близ Москвы _____ (напишите название города).
- 8.3. Самозванец, выдававший себя за сына Ивана IV Грозного, царевича Дмитрия Углицкого, получил прозвище _____ (напишите прозвище)
- 8.4. Под «*» обозначен монастырь, героически выдержавший 16-месячную осаду интервентов - _____ (напишите название монастыря).
- 8.5. Напишите название периода в русской истории, когда происходили события, обозначенные на карте.

Ответ:

8.1.	Василий Шуйский	2
8.2.	Тушинский лагерь (Тушино)	2
8.3.	Тушинский вор	2
8.4.	Троице-Сергиевский монастырь Троице-Сергиев монастырь	2
8.5.	Смуты	2

Задание № 9. Определите пропущенные в тексте названия, понятия, имена, даты, обозначенные порядковыми номерами. При необходимости при порядковых номерах даются пояснения о характере требуемой вставки. Необходимые вставки впишите под соответствующими номерами в помещённую ниже таблицу.

Жители **1 (название города)** присягнули на верность жене Федора Ивановича Ирине. Но она отказалась от престола и объявила о своем уходе в монастырь. И тогда взоры москвичей обратились на **2 (имя и фамилия будущего царя)**. Он не был потомком **3 (имя князя)**, но в течение многих лет управлял государством. Народная молва приписала ему смерть царевича **4 (имя царевича)**. В феврале 1598г. когда истекло время траура по Федору Ивановичу, в Кремле собрался **5 (название сословно-представительного органа)**. На нем при активной поддержке патриарха **6 (имя патриарха)** на царство был избран Борис Годунов **7 (годы правления)**. Борис Годунов в отличие от **8 (имя царя)** отказался от политики устрашения своих подданных и массовых казней. Однако со своими недругами Борис поступал жестоко. Так, по ложному обвинению были арестованы бояре **9 (фамилия бояр)**, двоюродные братья царя Федора Ивановича. Старший из братьев, Федор Никитич, был пострижен в монахи и под именем **10 (имя)** отправлен в один из северных монастырей. Трое младших братьев вскоре умерли в ссылке.

Ответ:

1.	Москва	2
2.	Борис Годунов	2
3.	Юрий	2
4.	Дмитрий	2
5.	Земский собор	2
6.	Иов Казанский	2
7.	1598-1605	2
8.	Иван Грозный	2
9.	Головин и др.	2
10.	Филарет	2

Критерии оценивания: за каждый верный ответ - 2 балла, всего - 20 баллов.

20 5